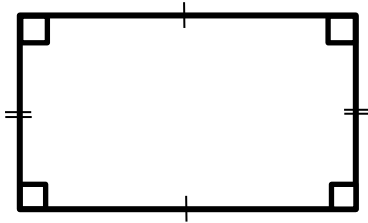


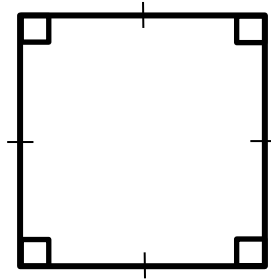
2017年6月9日 English Space 発行

皆さんこんにちは!今号の ES NEWS では数学とコラボした,図形にまつわるクイズです!いろんな図形がありますが,いくつかわかりますか?

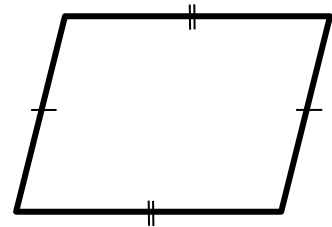
四角形



長方形



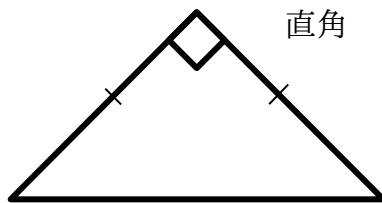
正方形



平行な

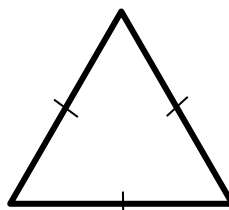
平行四辺形

三角形



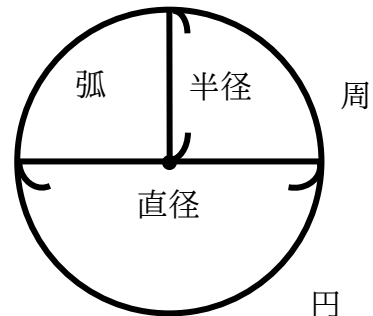
直角

直角三角形



二等辺三角形

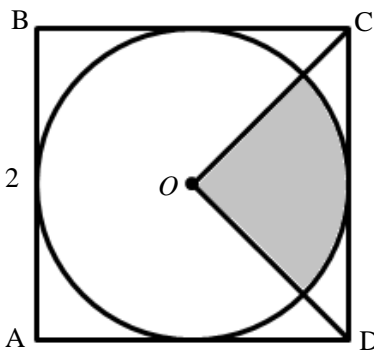
正三角形



円

アメリカの大学入試にチャレンジ!

アメリカの多くの州で採用されているアメリカ版センター試験, SAT の問題を解いてみましょう!



上の図で,点 O を中心とする円は正方形 $ABCD$ に内接している。色のついた部分の面積を求めよ。

- A) $\frac{\pi}{4}$ B) $\frac{\pi}{2}$ C) π D) $\frac{3\pi}{2}$ E) 2π

英検 2 次試験対策

English Space では会員特典として英検 2 次試験の対策を行っています。

2017 年度第 1 回英検 2 次試験

対策可能期間: 6/19(月)~7/8(土) ※一部とクローズの日を除く

費用: 無料

対策には ES 会員登録と事前予約が必要です。ご予約は English Space 受付、もしくはお電話で承ります。

こたえ: A

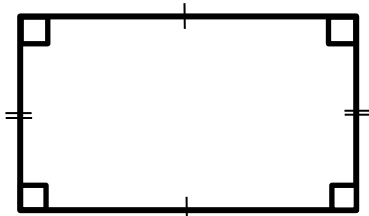


English Space(研伸館高校生課程西宮校 5 階)
〒663-8204 兵庫県西宮市高松町 3-36
TEL: 0798-67-0003 email: e-space@gk-es.com

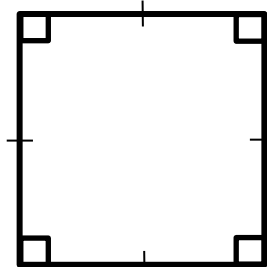
June 9th, 2017 | Published by English Space

Hello everyone! In this edition of ES NEWS, we collaborate with mathematics and challenge you with a geometry quiz. How many of them can you get correct?

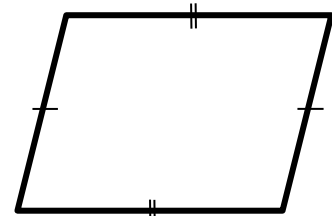
quadrilaterals



rectangle



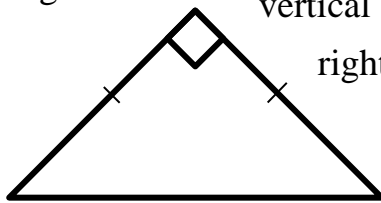
square



parallelogram

parallel

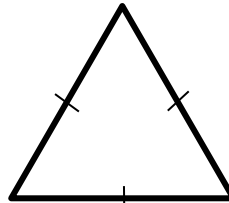
triangles



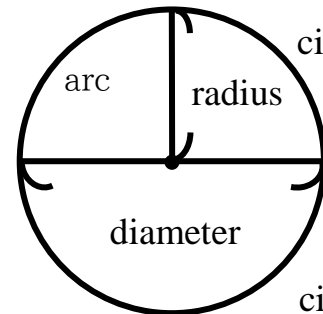
right triangle

isosceles triangle

vertical
right angle



equilateral triangle

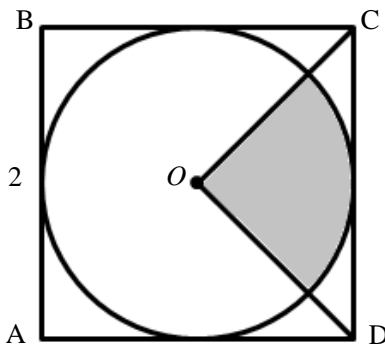


circumference

circle

arc
radius
diameter

Let's try the US version of the Center-Exam, the SAT!



In the figure above, the circle with center O is inscribed in square $ABCD$. What is the area of the shaded portion of the circle?

- A) $\frac{\pi}{4}$ B) $\frac{\pi}{2}$ C) π D) $\frac{3\pi}{2}$ E) 2π

Practice Sessions for EIKEN interview

All ES members can take advantage of the opportunity to practice for the interview portion of the EIKEN Test with our instructors.

Interview-Practice Sessions will be held from June 19th(Mon)~July 8th(Sat) (There are some exceptions.) for free. If you are not an ES member yet, you are required to sign up with ES. Also, you need to make an appointment before-hand. Contact us at the English Space reception desk, or call us to make an appointment.

Answer: A



English Space (5F of Kenshinkan Nishinomiya school, senior course)
TEL: 0798-67-0003 email: e-space@gk-es.com